

## IM VORÜBERGEHEN NR. 11

(Vereinszeitung SC Farmsen)

5. September 2015

Neun Runden sind gespielt. Zwei Teilnehmer haben ihre neun Partien bereits absolviert, die meisten sind aber noch nicht soweit. Die Favoriten finden sich allmählich im oberen Tabellendrittel ein, und Heiner Sudmann, der zu Beginn viel gespielt hatte, hat Tabellennachbarn bekommen.

Rainer Teuber und Gerhard Locknitz haben mit dem Jugendtraining begonnen. Am ersten Tag war allerdings nur ein Jugendlicher angemeldet.












Jugendtraining, noch mit mehr Trainern als Schüler(n)

Eine Reaktion auf unser Angebot, Flüchtlinge in unser Vereinsleben zu integrieren, haben wir noch nicht erhalten.

Vielen Dank an die Co-Kommentatoren Holger Schwarzwald und Klaus Bönecke.

Konstantin Abicht

Aufgaben:

 <p>2</p> <p>Entweder - oder: Wie soll Schwarz den d3-Bauern schlagen? Locknitz – Bolz</p>	 <p>7</p> <p>Der beste Aufbau: Wie sollte Weiß nun seine Läufer postieren? Teuber – Bölckow</p>	 <p>10</p> <p>Igelkunde: Mit welchem Aufbau sollte Schwarz seine Entwicklung abschließen? Floren – Abicht</p>
 <p>13</p> <p>Felderschwäche ausnutzen: Schwarz hatte 25. ... e5 gespielt. Wie könnte Weiß nun Probleme bereiten? Floren – Abicht</p>	 <p>17</p> <p>Strategiegrundsatz: Der schwarze König ist in der Mitte geblieben. Welchen strategischen Grundsatz sollte Weiß daher mit welchem Zug beherzigen? Schwarzwald – Materne</p>	 <p>22</p> <p>Überraschender Ausgang: Wenn Schwarz den Bauern b5 erobert, ergibt sich welche Stellungsbewertung? Schwarzwald – Materne</p>
 <p>25</p> <p>Gegenangriff I: Der drohenden Springergabel auf d4 begegnete Weiß mit dem Gegenangriff 17.Sd5. Kann das gutgehen? Salem – Debertshäuser</p>	 <p>34</p> <p>Gegenangriff II: Wenn sich Weiß nicht zwischen Dame und König stellt, wird er verlieren. Doch sein Tg1 wird Zielscheibe eines Doppelangriffs. Wie ist die Lage? Salem – Debertshäuser</p>	 <p>37</p> <p>Materiell oder positionell?: Der weiße e-Bauer ist bedroht. Wie könnte Weiß Nachteil vermeiden? Zippel – Bönecke</p>

Der Schwierigkeitsgrad der Aufgaben wird durch Symbole angezeigt (♁ = einfach, ♁ = nicht mehr ganz so einfach u.s.w.). Die Farbe des Symbols zeigt an, wer in der Diagrammstellung am Zug ist. Beispiel: ♁ heißt, Weiß ist am Zug und es handelt sich um ein leicht zu lösendes Problem. Und wie schon gewohnt, kann man anhand der Diagrammnummern im Partienteil die richtige Stelle mit den Erläuterungen ganz leicht auffinden, denn im Aufgabenteil sind die Diagrammnummern scheinbar durcheinander gewürfelt, aber im Partienteil sind diese schön ordentlich von 1 bis 39 aneinandergereiht!